



**TRANSICIÓN Guía #9**  
**Semana del 3 al 7 de mayo de 2021**

SUMAS CON CERO



2 + 0 = 2


Completar las sumas, escribir el número cero y luego el resultado. Colorear el resultado

<b>1</b> + <input type="text"/> = <input type="text"/>	
<b>5</b> + <input type="text"/> = <input type="text"/>	
<b>3</b> + <input type="text"/> = <input type="text"/>	
<b>4</b> + <input type="text"/> = <input type="text"/>	
<b>2</b> + <input type="text"/> = <input type="text"/>	

Colorear los números siguiendo la flecha - pintarle lunares a las mariposas según el número de al lado



Reteñir los números




## Decenas y unidades

1 Haz grupos de 10 y completa.



decenas



decenas

2 Cuenta y escribe.





unidades




decena =  unidades

Colorear siguiendo el código, repetir el número en voz alta

11  verde 12 café 13 gris 14  morado



15  anaranjado



Escribir las cantidades, hacer la suma



La foca juega con \_\_\_\_\_ 

En el suelo hay \_\_\_\_\_  

¿Cuántas pelotas tiene en total la foca?

$$\underline{\quad\quad} + \underline{\quad\quad} = \underline{\quad\quad}$$

Colorea las pelotas que tiene la foca